



- 1** Colorea y escribe los números que tengan la cifra 6 en las decenas.



- 2** Coloca, suma y escribe.

$24 + 15 + 20$

$33 + 2 + 31$

$36 + 22 + 10$

$15 + 30 + 22$

D	U

D	U





D	U

D	U

El resultado mayor: _____

El resultado menor: _____

- 3** Completa cada reloj.



- 4 Ordena los números de menor a mayor y colorea los que tienen la cifra 6 en las decenas.

67	16	69	6	46	28	26	68
□	□	□	□	□	□	□	□

- 5 Lee, selecciona los datos y resuelve.

En mi acuario tenía 12 cebritas y 15 arlequines.
Si he comprado 17 cebritas y 8 arlequines,
¿cuántas cebritas tengo ahora en mi acuario?

Tenía .

He comprado .

Ahora tengo

- 6 Lee, selecciona los datos y resuelve.

Jaime tiene una colección de 23 coches de carreras,
Elena tiene 15 trenes y Luis 21 helicópteros. ¿Cuántos
vehículos tienen entre los tres?

Jaime

Elena

Luis

Entre los tres tienen
